

Анастасия
Брагина

T-206-7-19

**ТЕСТОВЫЕ ЗАДАНИЯ МУНИЦИПАЛЬНОГО ЭТАПА
ВСЕРОССИЙСКОЙ ОЛИМПИАДЫ ШКОЛЬНИКОВ
ПО ТЕХНОЛОГИИ 2018-2019 УЧЕБНОГО ГОДА**

185

(Номинация «Культура дома и декоративно-прикладное творчество»)

Стержневская СОШ
7 КЛАСС

Впишите свой код/шифр		

Уважаемая(ый) участница(к) Олимпиады!

При выполнении заданий теоретического тура Вам предстоит выполнить определенную работу, которую лучше организовать следующим образом:

- не спеша, внимательно прочитайте задание и входящие в него вопросы;
- определите, наиболее верный и полный ответ;
- если вы отвечаете на теоретический вопрос, обдумайте и сформулируйте конкретный ответ только на поставленный вопрос;
- если вы отвечаете на предложенную ситуацию, обдумайте порядок и последовательность действий по предложенной ситуации и впишите ответы в схему в той последовательности, которую вы определили, при этом ответ должен быть кратким, но содержать необходимую информацию;
- если вы отвечаете на задание, связанное с заполнением таблицы, не старайтесь детализировать информацию, вписывайте только те сведения или данные, которые указаны в вопросе или верхних графах;
- продолжайте таким образом работу до завершения выполнения заданий;
- после выполнения всех предложенных заданий еще раз удостоверьтесь в правильности выбранных вами ответов и решений;

Задание теоретического тура по данной предметной секции считается выполненным, если Вы вовремя сдаете его членам жюри.

Время выполнения тестовых заданий – 90 минут.

С 1 по 20 задание за правильное выполнение - 1 балл, за 21 задание -10 баллов

Желаем вам успеха!

Максимальный балл	30	Общий набранный балл		Председатель предметного жюри	
--------------------------	-----------	-----------------------------	--	--------------------------------------	--

1. Вы в гостях. Вы садитесь за праздничный стол, берете салфетку и:

Отметьте знаком «+» подходящий вариант ответа

- 1
- а) вешаете ее на спинку стула;
 - б) кладете на колени;
 - в) заправляете за воротник;
 - г) кладете рядом с тарелкой;
 - д) убираете в карман.

2. Продукты на фотографиях богаты этим микроэлементом. Он играет важную роль в питании человека. Какую?

Отметьте знаком «+» подходящий вариант ответа

- 1
- а) необходим для формирования костной ткани;
 - б) нужен для нормального функционирования нервной системы;
 - в) необходим для нормальной работы почек;
 - г) усиливает выделение жидкости из организма;
 - д) снижает артериальное давление.



3. В Древности племенами майя и ацтеков это настолько высоко ценилось, что они применяли это не только для того чтобы приготовить свой любимый напиток "ксокоатль", но и как мелкую разменную монету. Что это?

Отметьте знаком «+» подходящий вариант ответа

-
- а) чай;
 - б) какао-бобы;
 - в) кофе;
 - г) зерна маиса.

4. Процесс заготовки продуктов с использованием уксусной кислоты называется:

Отметьте знаком «+» подходящий вариант ответа

-
- а) солением;
 - б) квашением;
 - в) копчением;
 - г) маринованием.

5. По способу приготовления тесто может быть:

Отметьте знаком «+» все подходящие варианты ответа

- 1
- а) дрожжевым;
 - б) скорым;
 - в) песочным;
 - г) суточным;
 - д) заварным.

6. Ткань обладает способностью изменять свои линейные размеры при стирке и влажно-тепловой обработке. Как называют это свойство?

—

7. Нити, проходящие поперек основы ткани, называются:

Отметьте знаком «+» все подходящие варианты ответа

- а) уток;
- б) долевая нить;
- в) продольная нить; —
- г) челночная нить;
- д) жизненная нить.

8. Винт в шпульном колпачке нужен для:

Отметьте знаком «+» подходящий вариант ответа

- а) соединения челнока в единое целое;
- б) усиления прочности;
- в) шпульного колпачка; —
- г) регулировки натяжения нижней нити;
- д) регулировки натяжения верхней нити.



9. Швейная машина плохо продвигает ткань, если:

Отметьте знаком «+» все подходящие варианты ответа

- а) слишком слабый прижим ткани; —
- б) слишком сильный прижим ткани;
- в) регулятор длины стежка установлен в нулевое положение;
- г) отключен механизм двигателя ткани;

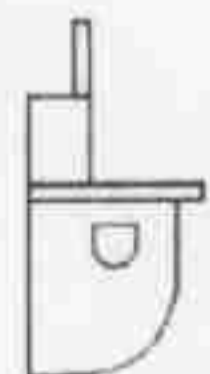
10. Определите по рисунку вид ручного шва:



11. Установите соответствие между рисунками фартуков и их выкройками



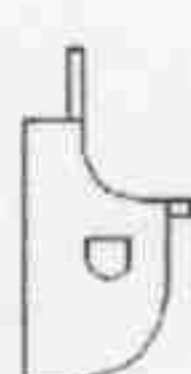
1



А



2



Б



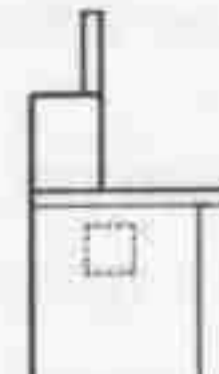
3



В



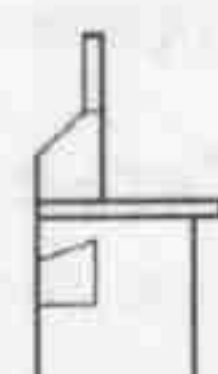
4



Г



5



Д

1 - А; 2 - Б; 3 - В; 4 - Г.

1

12. Прибавка - это:

- а) величина, необходимая при обработке изделия машинными швами, выраженная в сантиметрах и учитываемая при раскрое;
- б) величина, прибавляемая к размеру мерки, необходимая для свободного облегания одежды.

Отметьте знаком «+» подходящий вариант ответа

13. В процессе моделирования вытачки на юбке не могут быть преобразованы в:

Отметьте знаком «+» подходящий вариант ответа

- а) швы;
- б) рельефы;
- в) жабо;
- г) складки;

14. Из предложенных терминов выберите термины, соответствующие графическому изображению:

Отметьте знаком «+» все подходящие варианты ответа

- а) стачать;
- б) настроить;
- в) застрочить;
- г) обтачать;
- д) притачать.



15. Мерку Сб снимают:

Отметьте знаком «+» подходящий вариант ответа

- а) для определения длины изделия;
- б) для определения ширины изделия;
- в) для определения длины пояса;

16. Вставьте пропущенное слово.

В конце XIX-го века предмет одежды, похожий на _____, пользовался популярностью у шахтеров, так как служил хорошей защитой от жары и пыли. В 1898 году появилась _____ в том виде, в котором мы ее сейчас знаем, без пуговиц. Ее стали производить в США для морских пехотинцев. Как самостоятельный элемент одежды _____ начали воспринимать после Второй Мировой войны. Она вошла в состав обязательной униформы американских солдат, и, несмотря на то, что считалась нижним бельем, ее стали носить как верхнюю одежду. В ней было особенно удобно выполнять тяжелую работу в условиях жаркой погоды. В 1951 году в фильме «Трамвай «Желание» Марлон Брандо появился в белой _____, и с этого момента она стала восприниматься не только как обычный элемент гардероба, но и как полноценная модная одежда. Для изготовления _____ применяют легкое трикотажное полотно.

17. При работе с утюгом нельзя:

Отметьте знаком «+» все подходящие варианты ответа

- а) ставить утюг на огнеупорную подставку;
- б) утюжить влажную ткань;
- в) выключать утюг, дергая за шнур;
- г) включать утюг мокрыми руками;
- д) заливать воду из-под крана в ёмкость для воды утюга, включенного в сеть.

18. В настоящее время проблема парникового эффекта является одним из наиболее глобальных экологических вопросов, стоящих перед человечеством. Главной причиной парникового эффекта является попадание в атмосферу промышленных газов. Парниковый эффект создают углекислый газ, оксид азота, метан. Все эти газы - результат деятельности человека. Опишите, что происходит в результате парникового эффекта.

19. «Кто яблоко в день съедает, тот у ... не бывает».

Профессия, о которой упоминается в поговорке, относится к сфере деятельности:

Отметьте знаком «+» подходящий вариант ответа

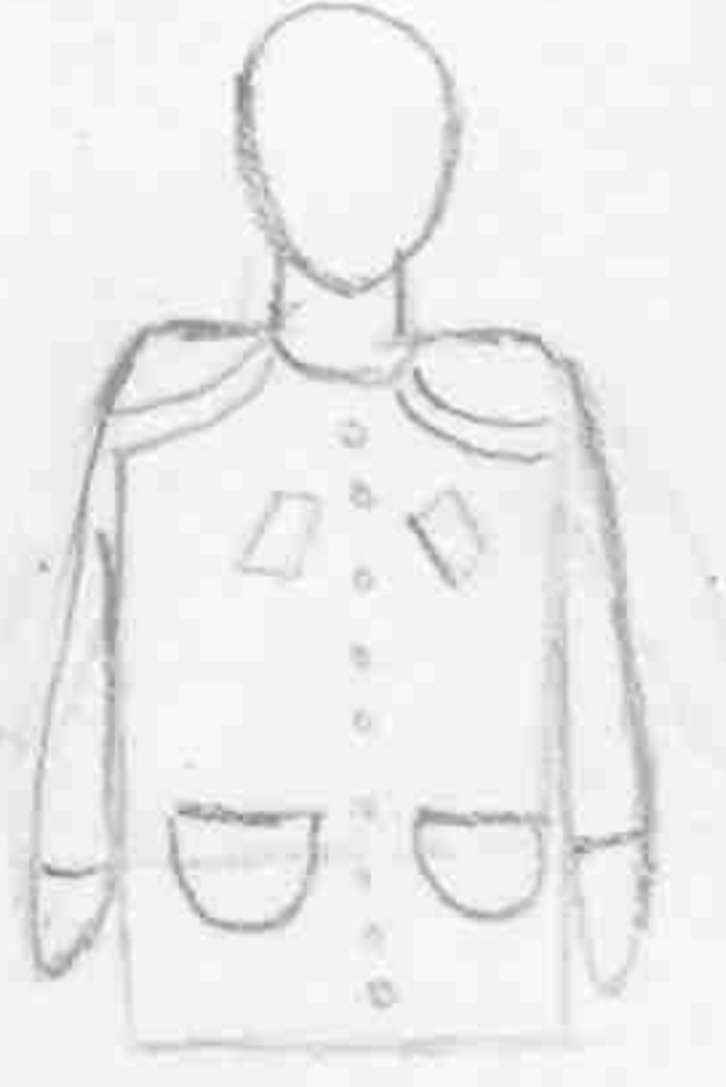

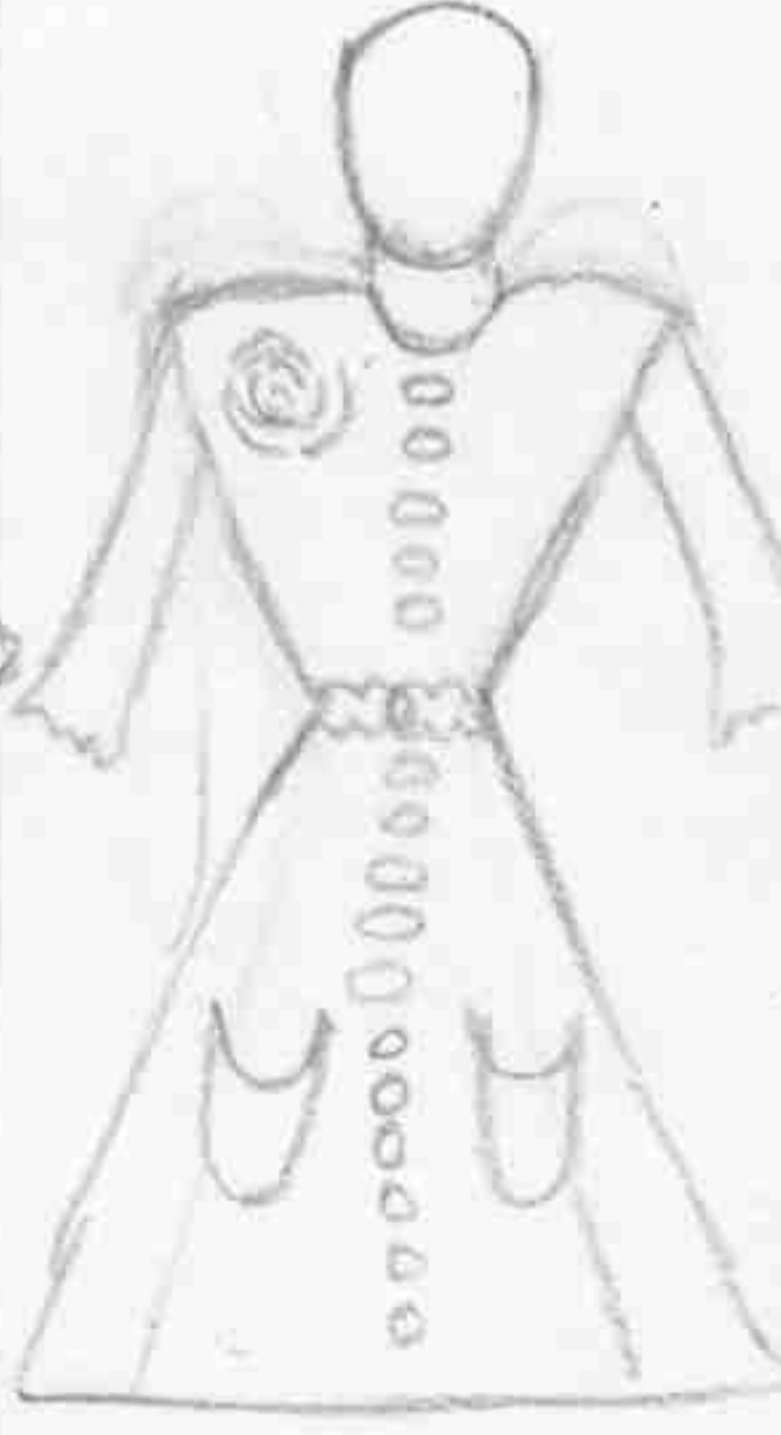



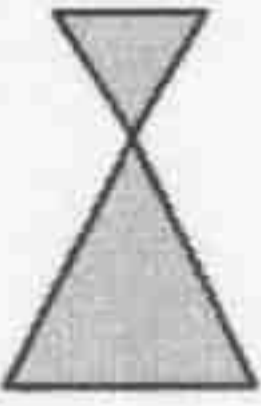

- а) человек – человек;
- б) человек – техника;
- в) человек - природа;

20. Что означает термин «семейный бюджет»:

- а) совокупный доход всех членов семьи;
- б) это план доходов и расходов семьи на определенный временной период;
- в) постоянные расходы семьи на коммунальные услуги.

21. Творческое задание.

Сделайте эскизы пальто в соответствии с предложенными силуэтами.

эскиз				
силуэт	 прямой	 полуприлегающий	 приталенный	 Расширенный к низу (трапеция)

105